

# Schullandheim-Rallye

## Habischried

1. Allgemeiner Teil

2. Außenbereich

3. Häuser

3.1 Haus Arber

3.2 Haus Lusen

3.2 Haus Rachel

**- LÖSUNGEN -**

# Allgemeiner Teil der Schullandheim-Rallye

Tipps geben dir

- Schullandheimprospekt
- Grundrissplan des Schullandheimes
- Wanderkarte „Wanderzentrum Rusel – Oberbreitenau“
- Wanderkarte „Goldsteig – Wandern im Bayerischen Wald“



1. Wie lautet die Adresse des Schullandheims Habischried?

Ergänze:      **Schullandheim Habischried**  
                  **Am Hochried 11**  
                  **94253 Habischried**

2. Die verschiedenen Gebäude des Schullandheimes tragen die Namen von vier Bergen des Bayerischen Waldes.  
Ordne jedem Berg die passende Höhenangabe zu!

Höhenangaben:      1456m – 1453m – 1371m – 1097m  
Arber            **1456 m**  
Geißkopf      **1097 m**  
Lusen            **1371 m**

Rachel **1453 m**

3. Wie heißt ein Nachbarort von Habischried?  
Kreuze die richtige Antwort an!

Bodenmais                       Bischofsmais


4. Wie heißen die zwei Nachbarländer des Bayerischen Waldes?  
Kreuze die richtigen Antworten an!

Schweiz     Tschechien     Österreich     Italien

5. Das Schullandheim bietet dir viel Platz zum Turnen, Musizieren, Lernen, Spielen, Werken usw.  
Kreuze an, welche Räume es in diesem Schullandheim gibt!

Sporthalle     Schwimmbad     Werkraum     Musiksaal  
 Fitnessraum     Spielzimmer     Klassenzimmer     Disco

6. Schau dir die Collage „Sonne“ auf Ebene 3 im Gang zu Haus Arber bzw. Rachel genau an.



Wie viele Kometen (Sterne mit Schweif) sind an der Wand? **22**  
Wie viele Monde sind um die Sonne angeordnet? **11**  
Welche Form ist nur ein einziges Mal vorhanden? **Herz**

7. Was kann NICHT im Büro ausgeliehen werden?

Kreuze an!

DVD-Player     Tennisschläger     Beamer     i-Pad

8. Schau dich in der Turnhalle um!

➤ Schreibe die vier Sportgeräte, die du in der Turnhalle siehst, auf!

Sprossenwand

Ringe

Basketballkorb

Kletterstange

➤ Lies dir die Regeln zur Turnhallenbenutzung genau durch!  
Schreibe auf:

Bei wem meldest du Schäden?

Heimleitung

Was muss unbedingt freigehalten werden?

Ausgeschilderter Fluchtweg

➤ Ergänze den Lückentext:

Turngeräte **nur**  
unter Anleitung des  
**Lehrers oder Gruppenleiters**  
auf- und **abbauen!**



9. Was verbirgt sich wohl hinter der Tür gegenüber der Turnhalle?

Kreuze die richtige Antwort an!

Solarium

Sonnenstrahlen als Reserve für Regentage

Erklärungen zur Funktion der Photovoltaikanlage des Gebäudes

10. Wer darf den Aufzug im Brandfall benutzen?

Kreuze die richtige Antwort an!

Gehbehinderte  niemand

Rollstuhlfahrer

## Rallye im Außenbereich des Schullandheims

1. Was befindet sich bei der Straßenlaterne 55 ?  
Kreuze die richtige Antwort an!

Sportplatz  Lagerfeuerplatz  Müll und Wertstoffe

2. Hinter der Straßenlaterne 49 steht ein stattlicher Nadelbaum. Wie viele Kinder sind nötig, um dessen Stamm zu umarmen? Probiert es aus!

Wir benötigen zur Umarmung der Fichte \_\_\_\_\_ Kinder!

3. Wo befindet sich das Insektenhotel?  
Kreuze die richtige Antwort an!

- am Haupteingang  
 am Haus Arber  
 an einer Garage



4. Wie viele Parkplätze befinden sich rechts vor der Auffahrt zum Haupteingang?

10 kleine Parkplätze und 1 großer Parkplatz

5. Welche Nadelbäume wachsen überwiegend rund um das Schullandheim? Kreuze die richtige Antwort an!

Fichten  Lärchen  Kiefern  Tannen

6. Welcher Nadelbaum steht am Eingang zum Haus Lusen?

Schreibe auf: **Lärche**

7. Was steht auf diesem Schild in der Nähe des Lagerfeuerplatzes?  
Ergänze den Lückentext!



Vorsicht **Absturzgefahr!**  
Bitte **nicht** klettern


8. Wie viele Stufen sind es zum Sportplatz am Eingang zwischen Laterne 53 und 54?

Schreibe auf: **10**

9. Welche Markierungen am Sportplatz sind für welche Sportart wichtig? Verbinde!

Kleinfeldtennis	<input checked="" type="checkbox"/>	<input checked="" type="checkbox"/>	gelb
Fußball	<input checked="" type="checkbox"/>	<input checked="" type="checkbox"/>	grau
Basketball	<input checked="" type="checkbox"/>	<input checked="" type="checkbox"/>	blau

10. Was befindet sich hinter deinem Rücken, wenn du diesen Weg siehst?



Kreuze das richtige Bild an!



11. Was bedeutet dieses Zeichen?



Kreuze die richtige Antwort an!

- Hier sammeln wir uns bei Feueralarm!
- Hier kommen neue Gäste an!
- Hier findet Gruppenarbeit statt!

12. Wo befindet sich dieses Zeichen?

Kreuze die richtige Antwort an!

- Lagerfeuerplatz
- Sportplatz
- hinter den Garagen

13. Was gehört nicht in die Natur und somit auch nicht ins Gelände des Schullandheims? **Abfall (Müll)**



Falls du auf deinem Weg durch das Gelände Müll liegen siehst: Heb' ihn bitte auf und bring ihn zur Müll- und Wertstoffsammelstelle!  
**DANKE!**

14. Im Schullandheim Habischried wird der Müll von den verschiedenen wiederverwertbaren Wertstoffen getrennt. Wo befinden sich die Müll- und Wertstoffsammelbehälter? Kreuze die richtige Antwort an!

- auf der Rückseite des Gebäudes
- nahe dem Lagerfeuerplatz
- zwischen den Garagen und dem Haupteingang

# Rallye im Haus Arber

1. Wie viele Tische befinden sich im blauen Teil des Speisesaals?

Schreibe auf: **6 Tische**

2. Im Telefonkammerl findest du Alarmpläne mit Telefonnummern.

Welche Nummer wählst du im Brandfall? **112**

Bei welchen Notfällen wählst du 110?

**Überfall**

**Einbruch**

**Bombendrohung**

**Umweltschaden**

3. Im Raum mit dem offenen Kamin hängt die Hausordnung.

Es gibt fünf Dienste im Schullandheim Habischried.

Ordne: In welcher Reihenfolge werden die Dienste genannt?

**3** Geschirr aufräumen

**2** Abwischen und Kehren des Speisesaals

**5** Kehren: Zimmer, Gänge, Treppenhäuser, Unterrichtsräume

**1** Tisch decken

**4** Ordnung und Sauberkeit in den Zimmern

4. Wo befindet sich dieses Waschbecken?



Kreuze die richtige Antwort an!

im Klassenzimmer

im Speisesaal

im Schuhraum

5. Zwischen welchen Zimmern befindet sich der Feuerlöscher im Gang mit den Zimmern 1 bis 5?

Schreibe auf:

Zwischen Zimmer **4** und **5**



6. Das Schullandheim besitzt eine Photovoltaikanlage.

Schreibe auf:

Finde mindestens zwei Vorteile der Nutzung von Sonnenenergie!

+ \_\_\_\_\_

+ \_\_\_\_\_

Kennst du auch Nachteile?

- \_\_\_\_\_

7. Im Schullandheim findest du immer wieder dieses Plakat:



Was sollst du beim Verlassen eines Raumes machen?

Ergänze den Lückentext!

Ich mache das **Licht** aus!

Ich drehe die **Heizung** auf eine niedrige Stufe oder ganz aus!

Ich schließe die **Fenster** und **Türen**!

8. In welchem Raum möchtest du/möchtet ihr am meisten Zeit verbringen? Schreibe auf:

Der Raum heißt: \_\_\_\_\_

Er befindet sich \_\_\_\_\_

Ich möchte/Wir möchten dort \_\_\_\_\_

\_\_\_\_\_

9. Worauf freust du dich/freut ihr euch am meisten? Schreibe auf:

\_\_\_\_\_

10. Glaubst du, dass ein Kind Heimweh bekommt? Wie kannst du diesem Kind helfen? Schreibe auf:

\_\_\_\_\_

\_\_\_\_\_

# Rallye im Haus Rachel

1. Wie viele Tische befinden sich im roten Teil des Speisesaals?

Schreibe auf: **6 Tische**

2. Im Telefonkammerl findest du Alarmpläne mit Telefonnummern.

Welche Nummer wählst du im Brandfall? **112**

Bei welchen Notfällen wählst du 110?

**Überfall**

**Einbruch**

**Bombendrohung**

**Umweltschaden**

3. Im Raum mit dem offenen Kamin hängt die Hausordnung.

Es gibt fünf Dienste im Schullandheim Habischried.

Ordne: In welcher Reihenfolge werden die Dienste genannt?

**3** Geschirr aufräumen


**2** Abwischen und Kehren des Speisesaals

**5** Kehren: Zimmer, Gänge, Treppenhäuser, Unterrichtsräume

**1** Tisch decken

**4** Ordnung und Sauberkeit in den Zimmern

4. Wo befindet sich dieses Fenster?



Kreuze die richtige Antwort an!

im Schuhraum

im Klassenzimmer

5. Wo befindet sich dieses Waschbecken?



Kreuze die richtige Antwort an!

- im Klassenzimmer
- im Speisesaal
- im Schuhraum

6. Bei welchem Zimmer befindet sich der Feuerlöscher im Gang mit den Zimmern 1 bis 4?

Schreibe auf:

Bei Zimmer **4** befindet sich ein Feuerlöscher.

7. Das Schullandheim besitzt eine Photovoltaikanlage.

Schreibe auf:

Finde mindestens zwei Vorteile der Nutzung von Sonnenenergie!

+ \_\_\_\_\_  
+ \_\_\_\_\_

Kennst du auch Nachteile?

- \_\_\_\_\_

8. Im Schullandheim findest du immer wieder dieses Plakat:



Was sollst du beim Verlassen eines Raumes machen?

Ergänze den Lückentext!

Ich mache das **Licht** aus!

Ich drehe die **Heizung** auf eine niedrige Stufe oder ganz aus!

Ich schließe die **Fenster** und **Türen**!

9. In welchem Raum möchtest du/möchtet ihr am meisten Zeit verbringen? Schreibe auf:

Der Raum heißt: \_\_\_\_\_

Er befindet sich \_\_\_\_\_

Ich möchte/Wir möchten dort \_\_\_\_\_

\_\_\_\_\_

10. Worauf freust du dich/freut ihr euch am meisten?  
Schreibe auf:

\_\_\_\_\_

11. Glaubst du, dass ein Kind Heimweh bekommt?  
Wie kannst du diesem Kind helfen?  
Schreibe auf:

\_\_\_\_\_

\_\_\_\_\_

# Rallye im Haus Lusen

1. Wie viele Tische befinden sich im gelben Speisesaal?

Schreibe auf: **5 Tische**

2. Im Telefonkammerl findest du Alarmpläne mit Telefonnummern.

Welche Nummer wählst du im Brandfall? **112**

Bei welchen Notfällen wählst du 110?

**Überfall**

**Einbruch**

**Bombendrohung**

**Umweltschaden**

3. Im Raum mit dem offenen Kamin hängt die Hausordnung.  
Es gibt fünf Dienste im Schullandheim Habischried.

Ordne: In welcher Reihenfolge werden die Dienste genannt?

**3** Geschirr aufräumen


**2** Abwischen und Kehren des Speisesaals

**5** Kehren: Zimmer, Gänge, Treppenhäuser, Unterrichtsräume

**1** Tisch decken

**4** Ordnung und Sauberkeit in den Zimmern

4. In welchem Raum befindet sich der Fotograf?



Schreibe auf:

Dieses Bild wurde im **Skiraum** gemacht.

5. Wo befindet sich dieses Waschbecken?



Kreuze die richtige Antwort an!

- im Klassenzimmer
- im Speisesaal
- im Schuhraum

6. Welche Zimmer sind für Rollstuhlfahrer geeignet?  
Schreibe auf:

Zimmer 5 und 10

7. Das Schullandheim besitzt eine Photovoltaikanlage.  
Schreibe auf:

Finde mindestens zwei Vorteile der Nutzung von Sonnenenergie!

+ \_\_\_\_\_  
+ \_\_\_\_\_

Kennst du auch Nachteile?

- \_\_\_\_\_

8. Im Schullandheim findest du immer wieder dieses Plakat:



Was sollst du beim Verlassen eines Raumes machen?

Ergänze den Lückentext!

Ich mache das **Licht** aus!

Ich drehe die **Heizung** auf eine niedrige Stufe oder ganz aus!

Ich schließe die **Fenster** und **Türen**!

9. In welchem Raum möchtest du/möchtet ihr am meisten Zeit verbringen?  
Schreibe auf:

Der Raum heißt: \_\_\_\_\_

Er befindet sich \_\_\_\_\_

Ich möchte/Wir möchten dort \_\_\_\_\_

---

10. Worauf freust du dich/freut ihr euch am meisten?  
Schreibe auf:

---

11. Glaubst du, dass ein Kind Heimweh bekommt?  
Wie kannst du diesem Kind helfen?  
Schreibe auf:

---

---