

Schullandheim-Rallye

Habischried

1. Allgemeiner Teil

2. Außenbereich

3. Häuser

3.1 Haus Arber

3.2 Haus Lusen

3.2 Haus Rachel

Allgemeiner Teil der Schullandheim-Rallye

Tipps geben dir

- Schullandheimprospekt
- Grundrissplan des Schullandheimes
- Wanderkarte „Wanderzentrum Rusel – Oberbreitenau“
- Wanderkarte „Goldsteig – Wandern im Bayerischen Wald“



1. Wie lautet die Adresse des Schullandheims Habischried?

Ergänze: Schullandheim Habischried
Am _____ 11
_____ Habischried

2. Die verschiedenen Gebäude des Schullandheimes tragen die Namen von vier Bergen des Bayerischen Waldes.
Ordne jedem Berg die passende Höhenangabe zu!

Höhenangaben: 1456m – 1453m – 1371m – 1097m

Arber _____

Geißkopf _____

Lusen _____

Rachel _____

3. Wie heißt ein Nachbarort von Habischried?
Kreuze die richtige Antwort an!

- Bodenmais Bischofsmais


4. Wie heißen die zwei Nachbarländer des Bayerischen Waldes?
Kreuze die richtigen Antworten an!

- Schweiz Tschechien Österreich Italien

5. Das Schullandheim bietet dir viel Platz zum Turnen, Musizieren,
Lernen, Spielen, Werken usw.
Kreuze an, welche Räume es in diesem Schullandheim gibt!

- Sporthalle Schwimmbad Werkraum Musiksaal
 Fitnessraum Spielzimmer Klassenzimmer Disco

6. Schau dir die Collage „Sonne“ auf Ebene 3 im Gang zu Haus
Arber bzw. Rachel genau an.



Wie viele Kometen (Sterne mit Schweif) sind an der Wand? ____

Wie viele Monde sind um die Sonne angeordnet? _____

Welche Form ist nur ein einziges Mal vorhanden? _____

7. Was kann NICHT im Büro ausgeliehen werden?

Kreuze an!

- DVD-Player Tennisschläger Beamer i-Pad

8. Schau dich in der Turnhalle um!

- Schreibe die vier Sportgeräte, die du in der Turnhalle siehst, auf!

- Lies dir die Regeln zur Turnhallenbenutzung genau durch!
Schreibe auf:

Bei wem meldest du Schäden? _____

Was muss unbedingt freigehalten werden? _____

- Ergänze den Lückentext:

Turngeräte _____
unter Anleitung des _____
auf- und _____!



9. Was verbirgt sich wohl hinter der Tür gegenüber der Turnhalle?

Kreuze die richtige Antwort an!

- Solarium
- Sonnenstrahlen als Reserve für Regentage
- Erklärungen zur Funktion der Photovoltaikanlage des Gebäudes

10. Wer darf den Aufzug im Brandfall benutzen?

Kreuze die richtige Antwort an!

- Gehbehinderte niemand Rollstuhlfahrer

Rallye im Außenbereich des Schullandheims

1. Was befindet sich bei der Straßenlaterne 55 ?
Kreuze die richtige Antwort an!

Sportplatz Lagerfeuerplatz Müll und Wertstoffe

2. Hinter der Straßenlaterne 49 steht ein stattlicher Nadelbaum. Wie viele Kinder sind nötig, um dessen Stamm zu umarmen? Probiert es aus!

Wir benötigen zur Umarmung der Fichte _____ Kinder!

3. Wo befindet sich das Insektenhotel?
Kreuze die richtige Antwort an!

am Haupteingang
 am Haus Arber
 an einer Garage



4. Wie viele Parkplätze befinden sich rechts vor der Auffahrt zum Haupteingang?

_____ kleine Parkplätze und _____ großer Parkplatz

5. Welche Nadelbäume wachsen überwiegend rund um das Schullandheim? Kreuze die richtige Antwort an!

Fichten Lärchen Kiefern Tannen

6. Welcher Nadelbaum steht am Eingang zum Haus Lusen?

Schreibe auf: _____

7. Was steht auf diesem Schild in der Nähe des Lagerfeuerplatzes?
Ergänze den Lückentext!



Vorsicht _____

Bitte _____ klettern

8. Wie viele Stufen sind es zum Sportplatz am Eingang zwischen Laterne 53 und 54?

Schreibe auf: _____

9. Welche Markierungen am Sportplatz sind für welche Sportart wichtig? Verbinde!

Kleinfeldtennis	<input type="checkbox"/>	<input type="checkbox"/>	gelb
Fußball	<input type="checkbox"/>	<input type="checkbox"/>	grau
Basketball	<input type="checkbox"/>	<input type="checkbox"/>	blau

10. Was befindet sich hinter deinem Rücken, wenn du diesen Weg siehst?



Kreuze das richtige Bild an!



11. Was bedeutet dieses Zeichen?



Kreuze die richtige Antwort an!

- Hier sammeln wir uns bei Feueralarm!
- Hier kommen neue Gäste an!
- Hier findet Gruppenarbeit statt!

12. Wo befindet sich dieses Zeichen?

Kreuze die richtige Antwort an!

- Lagerfeuerplatz
- Sportplatz
- hinter den Garagen

13. Was gehört nicht in die Natur und somit auch nicht ins Gelände des Schullandheims? _____



Falls du auf deinem Weg durch das Gelände Müll liegen siehst: Heb' ihn bitte auf und bring ihn zur Müll- und Wertstoffsammelstelle!
DANKE!

14. Im Schullandheim Habischried wird der Müll von den verschiedenen wiederverwertbaren Wertstoffen getrennt. Wo befinden sich die Müll- und Wertstoffsammelbehälter? Kreuze die richtige Antwort an!

- auf der Rückseite des Gebäudes
- nahe dem Lagerfeuerplatz
- zwischen den Garagen und dem Haupteingang

Rallye im Haus Arber

1. Wie viele Tische befinden sich im blauen Teil des Speisesaals?
Schreibe auf: _____

2. Im Telefonkammerl findest du Alarmpläne mit Telefonnummern.

Welche Nummer wählst du im Brandfall? _____

Bei welchen Notfällen wählst du 110?

3. Im Raum mit dem offenen Kamin hängt die Hausordnung.
Es gibt fünf Dienste im Schullandheim Habischried.
Ordne: In welcher Reihenfolge werden die Dienste genannt?

___ Geschirr aufräumen

___ Abwischen und Kehren des Speisesaals

___ Kehren: Zimmer, Gänge, Treppenhäuser, Unterrichtsräume

___ Tisch decken

___ Ordnung und Sauberkeit in den Zimmern

4. Wo befindet sich dieses Waschbecken?



Kreuze die richtige Antwort an!

im Klassenzimmer

im Speisesaal

im Schuhraum

5. Zwischen welchen Zimmern befindet sich der Feuerlöscher im Gang mit den Zimmern 1 bis 5?

Schreibe auf:

Zwischen Zimmer _____ und _____.

6. Das Schullandheim besitzt eine Photovoltaikanlage.

Schreibe auf:

Finde mindestens zwei Vorteile der Nutzung von Sonnenenergie!

+ _____

+ _____

Kennst du auch Nachteile?

- _____

7. Im Schullandheim findest du immer wieder dieses Plakat:



Was sollst du beim Verlassen eines Raumes machen?

Ergänze den Lückentext!

Ich mache das _____ aus!

Ich drehe die _____ auf eine niedrige Stufe oder ganz aus!

Ich schließe die _____ und _____!

8. In welchem Raum möchtest du/möchtet ihr am meisten Zeit verbringen? Schreibe auf:

Der Raum heißt: _____

Er befindet sich _____

Ich möchte/Wir möchten dort _____

9. Worauf freust du dich/freut ihr euch am meisten? Schreibe auf:

10. Glaubst du, dass ein Kind Heimweh bekommt? Wie kannst du diesem Kind helfen? Schreibe auf:

Rallye im Haus Rachel

1. Wie viele Tische befinden sich im roten Teil des Speisesaals?

Schreibe auf: _____

2. Im Telefonkammerl findest du Alarmpläne mit Telefonnummern.

Welche Nummer wählst du im Brandfall? _____

Bei welchen Notfällen wählst du 110?

3. Im Raum mit dem offenen Kamin hängt die Hausordnung.

Es gibt fünf Dienste im Schullandheim Habischried.

Ordne: In welcher Reihenfolge werden die Dienste genannt?

___ Geschirr aufräumen


___ Abwischen und Kehren des Speisesaals

___ Kehren: Zimmer, Gänge, Treppenhäuser, Unterrichtsräume

___ Tisch decken

___ Ordnung und Sauberkeit in den Zimmern

4. Wo befindet sich dieses Fenster?




Kreuze die richtige Antwort an!

im Schuhraum

im Klassenzimmer

5. Wo befindet sich dieses Waschbecken?



Kreuze die richtige Antwort an!

- im Klassenzimmer
- im Speisesaal
- im Schuhraum

6. Bei welchem Zimmer befindet sich der Feuerlöscher im Gang mit den Zimmern 1 bis 4?

Schreibe auf:

Bei Zimmer _____ befindet sich ein Feuerlöscher.

7. Das Schullandheim besitzt eine Photovoltaikanlage.

Schreibe auf:

Finde mindestens zwei Vorteile der Nutzung von Sonnenenergie!

+ _____

+ _____

Kennst du auch Nachteile?

- _____

8. Im Schullandheim findest du immer wieder dieses Plakat:



Was sollst du beim Verlassen eines Raumes machen?

Ergänze den Lückentext!

Ich mache das _____ aus!

Ich drehe die _____ auf eine niedrige Stufe oder ganz aus!

Ich schließe die _____ und _____!

9. In welchem Raum möchtest du/möchtet ihr am meisten Zeit verbringen? Schreibe auf:

Der Raum heißt: _____

Er befindet sich _____

Ich möchte/Wir möchten dort _____

10. Worauf freust du dich/freut ihr euch am meisten?
Schreibe auf:

11. Glaubst du, dass ein Kind Heimweh bekommt?
Wie kannst du diesem Kind helfen?
Schreibe auf:

Rallye im Haus Lusen

1. Wie viele Tische befinden sich im gelben Speisesaal?

Schreibe auf: _____

2. Im Telefonkammerl findest du Alarmpläne mit Telefonnummern.

Welche Nummer wählst du im Brandfall? _____

Bei welchen Notfällen wählst du 110?

3. Im Raum mit dem offenen Kamin hängt die Hausordnung.
Es gibt fünf Dienste im Schullandheim Habischried.
Ordne: In welcher Reihenfolge werden die Dienste genannt?

___ Geschirr aufräumen

___ Abwischen und Kehren des Speisesaals

___ Kehren: Zimmer, Gänge, Treppenhäuser, Unterrichtsräume

___ Tisch decken

___ Ordnung und Sauberkeit in den Zimmern

4. In welchem Raum befindet sich der Fotograf?



Schreibe auf:

Dieses Bild wurde im _____
gemacht.

5. Wo befindet sich dieses Waschbecken?



Kreuze die richtige Antwort an!

- im Klassenzimmer
- im Speisesaal
- im Schuhraum

6. Welches Zimmer ist für Rollstuhlfahrer geeignet?
Schreibe auf:

Zimmer _____

7. Das Schullandheim besitzt eine Photovoltaikanlage.
Schreibe auf:

Finde mindestens zwei Vorteile der Nutzung von Sonnenenergie!

+ _____
+ _____

Kennst du auch Nachteile?

- _____

8. Im Schullandheim findest du immer wieder dieses Plakat:



Was sollst du beim Verlassen eines Raumes machen?
Ergänze den Lückentext!

Ich mache das _____ aus!

Ich drehe die _____ auf eine niedrige Stufe oder ganz aus!

Ich schließe die _____ und _____!

9. In welchem Raum möchtest du/möchtet ihr am meisten Zeit verbringen?
Schreibe auf:

Der Raum heißt: _____

Er befindet sich _____

Ich möchte/Wir möchten dort _____

10. Worauf freust du dich/freut ihr euch am meisten?
Schreibe auf:

11. Glaubst du, dass ein Kind Heimweh bekommt?
Wie kannst du diesem Kind helfen?
Schreibe auf:
